



کد محصول
ES525



آخرین بروزرسانی
۱۴۰۴ مهر ۱۴

سوالات استخدامی

ایران آزمون (مجری آزمون)

- ✓ اصل سوالات آزمون های استخدامی ادوار گذشته ایران آزمون (مجری آزمون)
- ✓ نسخه رایگان شامل ۲۷۵ سوال (تعداد کمتر و تنها برخی دارای پاسخ)
- ✓ برای تهیه نسخه اصلی، با ۶۹۵ سوال به همراه پاسخنامه تشریحی، به سایت ایران عرضه مراجعه نمایید.



لینک های مفید استخدامی ایران آزمون (مجری آزمون)

خرید این محصول	خرید سوالات جهاد دانشگاهی (مجری آزمون)
خرید درسنامه دروس عمومی	خرید سوالات استخدامی ۱۰ سال اخیر
خرید سوالات مصاحبه و گزینش	خرید درسنامه مصاحبه و گزینش
شبکه های اجتماعی ایران عرضه (فایل های رایگان + تخفیفات هفتگی + اخبار)	
(برای مشاهده هر بخش روی آن بزنید )	
<p>آخرین بروزرسانی ها:</p> <p>۱۴۰۴/۰۷/۱۴ اضافه شدن فصل جدید (سوالات بانک رفاه ۱۴۰۴)</p> <p>۱۴۰۴/۰۶/۱۵ تالیف مجدد محصول</p>	

فهرست مطالب

❖ فصل اول: سوالات آزمون استخدامی بانک صادرات ۲۴ آبان ۱۴۰۳ - صفحه ۴ (۵۴ سوال)

زبان و ادبیات فارسی - معارف اسلامی - دانش عمومی کامپیوتر - هوش ریاضی و استعداد سنجی (GMAT) - زبان انگلیسی

❖ فصل دوم: اصل سوالات استخدامی بانک قرض الحسنه مهر ایران اسفند ۱۴۰۲ - صفحه ۱۱ (۱۰۰ سوال)

هوش و استعداد تحصیلی - کامپیوتر - زبان انگلیسی عمومی - ریاضی و آمار - اطلاعات عمومی (دانش علوم بانکی، اقتصادی، بازار های مالی و سرمایه و بازاریابی)

❖ فصل سوم: اصل سوالات عمومی و تخصصی استخدامی بانک رفاه ۱۴۰۱ - صفحه ۲۳ (۲۱ سوال)

❖ فصل چهارم: سوالات آزمون استخدامی بانک رفاه ۴ مهر ۱۴۰۴ - صفحه ۲۶ (۱۰۰ سوال)



در هر بخش، تنها ۱ سوال ابتدایی دارای پاسخنامه تشریحی می باشد. در صورت تمایل به دریافت سوالات بیشتر با جواب تشریحی می توانید این محصول را از سایت ایران عرضه خریداری نمایید.

خرید محصول

❖ فصل اول: سوالات آزمون استخدامی بانک صادرات ۲۴ آبان ۱۴۰۳

◀ زبان و ادبیات فارسی

۱- املای کدام کلمه با توجه به معنی مقابل آن غلط است؟

(۱) تحریر: نوشتن (۲) تتبع: تحقیق کردن

(۳) تعلم: دردمندی (۴) طعنه: سرزنش

❑ پاسخ سایت ایران عرضه: گزینه ۳ ➡ با توجه به معنی داده شده برای هر واژه میتوان گفت که املای صحیح واژه معادل با دردمندی به صورت تالم میباشد. واژه تعلم به معنی آموزش و فراگیر میباشد.

۲- کدام گزینه جمع است؟

(۱) ابزار (۲) احرار (۳) موات (۴) ادات

۳- «استیفا» یعنی: (منبع ایران عرضه)

(۱) بازستدن به طور کامل (۲) بی نیازی

(۳) چیرگی (۴) کناره گیری از کار

۴- با توجه به مفهوم عبارت «خردمند را چگونه آرزوی چیزی در دل جای دهد که رنج و تبعت آن بسیار باشد و انتفاع و

استمتاع اندک» خردمند را چگونه شخصی می دانند؟

(۱) آن که سود زودگذر را بر زیان همیشگی ترجیح دهد.

(۲) آن که سود و زیانش برایش بی تفاوت باشد.

(۳) آن که سود را بر زیان ترجیح دهد.

(۴) آن که زیان زودگذر را بر زیان همیشگی ترجیح نهد.

۵- معنی کلمات و ترکیبات زیر در همه گزینه ها، به جز گزینه درست است.

(۱) برنشستن: سوار شدن (۲) علی السویه: به طور یکسان

(۳) مَلَکات فاضله: فرشتگان آسمان (۴) ناهار کردن: گرسنه ماندن

۶- از مفهوم بیت «برآمد ز سودای من سرخ روی کزین جنس بیهوده دیگر مگوی» همه گزینه ها، به جز گزینه دریافت می شود.

(۱) خام اندیشی (۲) یاوه گویی (۳) شرمندگی (۴) برافروختگی

۷- مفهوم « گرایش انسان به زهد ریشه ای در آزادمنشی دارد» یعنی:

- (۱) آزادگی بنیاد زهد است.
- (۲) آزادمنشی نتیجه زهد است.
- (۳) انسان از زهد به آزاد منشی میگراید.
- (۴) زهد ریشه آزادی است.

۸- «گوینده خلاف رضا در هوای نفس» یعنی:

- (۱) برخلاف رضای خود در هوای نفس می افتد
 - (۲) برخلاف هوای نفس سخن می گوید
 - (۳) خلاف رضایت مردم را در هوای نفس می جوید
 - (۴) در هوای نفس گوینده خلافی است
- ۹- علامت گیومه در همه گزینه ها به جز گزینه درست به کار رفته است.

- (۱) اقبال از نوع شاعرانی است که «کواکبی» آنها را ستود
 - (۲) علامت «جات به عنوان» نشانه جمع در فارسی، پسندیده نیست
 - (۳) عنوان «وکالتنامه» بر بالای وسط صفحه نوشته می شود
 - (۴) و بار دیگر او را به «خودش» مؤمن سازد
- ۱۰- کدام گزینه از لحاظ نگارش، درست است؟

- (۱) در فرهنگ ما شهادت یک حادثه خونین و ناگوار نیست.
- (۲) شهادت یه حادثه خونین و ناگوار در فرهنگ ما نیست.
- (۳) در فرهنگ ما یک حادثه خونین و ناگوار شهادت نیست.
- (۴) شهادت در فرهنگ ما یک حادثه خونین و ناگوار نیست.

معارف اسلامی

۱۱- شعر روبه رو بیانگر کدام یک از پیام های قرآنی است؟ «ایوان مدائن را ایینه ی عبرت دان»

- (۱) يَا أَيُّهَا الَّذِينَ آمَنُوا لِمَ تَقُولُونَ مَا لَا تَفْعَلُونَ
- (۲) لَا تَتَّخِذُوا عَدُوِّيَّ وَ عَدُوَّكُمْ أَوْلِيَاءَ
- (۳) سُبْحَ اللَّهِ مَا فِي السَّمَاوَاتِ وَمَا فِي الْأَرْضِ
- (۴) فَأَعْتَبِرُوا يَا أُولِيَ الْأَبْصَارِ

۱۲- کدام یک از بستگان برای مردان محرم هستند؟

- (۱) زن پدر - زن برادر - خاله پدر
- (۲) زن پدر - دختر زن - خاله پدر
- (۳) خواهر زن - زن پدر - خاله مادر
- (۴) خواهر زن - زن برادر - دخترعمو

۱۳- حکم چند مورد از موارد زیر حرام است؟ (تالیف توسط سایت ایران عرضه)

الف) استفاده از کارهای ادبی هنری و غیره با کسب اجازه از تولید کننده

ب) شرط بندی در بازیها و ورزش های معمولی

ج) صرفاً تماشا کردن مجالس لهو و لعب

۱ (۱) ۲ (۲) ۳ (۳) ۴ (۴) هیچکدام

۱۴- کدام عامل، موجب یکپارچگی اروپا شد و کدام عامل موجب انحراف این تمدن گردید؟

۱) پذیرش عقاید رهبران کلیسا و رعایت آداب و رسوم تبلیغ شده - اعتقادات نادرست مبلغان مسیحی

۲) پذیرش عقاید رهبران کلیسا و رعایت آداب و رسوم تبلیغ شده - مخالفت با نظریات دینی و مذهبی

۳) کنار گذاشتن اعتقادات باستانی و بت پرستی و اعتقاد به یک دین الهی - مخالفت با نظریات دینی و مذهبی

۴) کنار گذاشتن اعتقادات باستانی و بت پرستی و اعتقاد به یک دین الهی - اعتقادات نادرست مبلغان مسیحی

۱۵- گویا شدن به این عبارت قرآنی که «يَسْأَلُهُ مَنْ فِي السَّمَوَاتِ وَالْأَرْضِ» برخاسته از فهم کدام عبارت قرآنی است؟

۱) «أَلَا بِذِكْرِ اللَّهِ تَطْمَئِنُّ الْقُلُوبُ» ۲) «لَا تُدْرِكُهُ الْأَبْصَارُ»

۳) «وَأَلَّهُ هُوَ الْغَنِيُّ الْحَمِيدُ» ۴) «يَا أَيُّهَا النَّاسُ أَنْتُمُ الْفُقَرَاءُ إِلَى اللَّهِ»

۱۶- شستشوی قلب از گناه و خروج گناهان از قلب چه نام دارد و حدیث نبوی در این باره کدام است؟

۱) توبه - اَلتَّوْبَةُ تُطَهِّرُ الْقُلُوبَ وَ تَغْسِلُ الذُّنُوبَ

۲) تخلیه - التَّائِبُ مِنَ الذَّنْبِ كَمَنْ لَا ذَنْبَ لَهُ

۳) توبه - التَّائِبُ مِنَ الذَّنْبِ كَمَنْ لَا ذَنْبَ لَهُ

۴) پیرایش - اَلتَّوْبَةُ تُطَهِّرُ الْقُلُوبَ وَ تَغْسِلُ الذُّنُوبَ

۱۷- عام ترین و فراگیرترین قانون الهی در مواجهه با اعمال و حضور در اجتماع چگونه نمایان میشود؟

۱) از طریق داشتن حسن ظن و یا سو ظن نسبت به همه چیز - از طریق رعایت حقوق دیگران

۲) از طریق داشتن حسن ظن و یا سو ظن نسبت به همه چیز - از طریق قضاوت در خصوص دیگران

۳) از طریق توجه به رعایت حریم واجبات و محرمات - از طریق رعایت حقوق دیگران

۴) از طریق توجه به رعایت حریم واجبات و محرمات - از طریق قضاوت در خصوص دیگران

۱۸- آنجا که اراده خداوند بر انجام کاری قرار گرفته باشد کدام مصداق متبلور شده است؟

۱) « قَدْ جَاءَكُمْ بِصَائِرٍ مِنْ رَبِّكُمْ »

۲) «كُلُّ يَوْمٍ هُوَ فِي شَأْنٍ»

۳) «إِنَّا هَدَيْنَاهُ السَّبِيلَ إِمَّا شَاكِرًا وَإِمَّا كَفُورًا»

۴) « ذُلِكَ بِمَا قَدَّمْتَ يَدَاكَ وَأَنَّ اللَّهَ لَيْسَ بِظَلَامٍ لِلْعَبِيدِ »

۱۹- از سخنان رسول خدا صلی الله و آله و سلم در جنگ بدر به کشتگان لشکر کفر که فرمود: «آنچه پروردگارمان به ما وعده داده بود، حق یافتیم؛ آیا شما نیز آنچه پروردگارتان وعده داده بود، حق یافتید؟» کدام مطلب فهمیده می شود؟

- (۱) ارتباط انسان در عالم برزخ با دنیا، پس از مرگ نیز همچنان برقرار است.
 - (۲) پاداش و کیفر نتیجه خود اعمال است و انسان ها نمیتوانند آن را تغییر دهند.
 - (۳) زندگی دنیوی همچون خوابی کوتاه است و جهان آخرت تداوم بخش آن است.
 - (۴) تمام اعمال انسان در قیامت حاضر می شود و انسان عین عمل خود را می بیند.
- ۲۰- بهترین گواه بر اعمال خوب و بد انسانها چیست و کدام آیه شریفه موید آن است؟

- (۱) تجسم اعمال انسان - «يَوْمَ تَشْهَدُ عَلَيْهِمْ أَلْسِنَتُهُمْ وَأَيْدِيهِمْ وَأَرْجُلُهُمْ»
- (۲) تجسم اعمال انسان - «فَمَنْ يَعْمَلْ مِثْقَالَ ذَرَّةٍ خَيْرًا يَرَهُ»
- (۳) پیامبران و فرشتگان - «فَمَنْ يَعْمَلْ مِثْقَالَ ذَرَّةٍ خَيْرًا يَرَهُ»
- (۴) پیامبران و فرشتگان - «يَوْمَ تَشْهَدُ عَلَيْهِمْ أَلْسِنَتُهُمْ وَأَيْدِيهِمْ وَأَرْجُلُهُمْ»

◀ دانش عمومی کامپیوتر

۲۱- جهت حرکت بین چند پنجره باز در ویندوز از کدام کلید میانبر استفاده می شود؟

- (۱) Alt + F4
- (۲) Alt + Tab
- (۳) Alt + Space
- (۴) Ctrl + Esc

۲۲- کدام یک از گزینه های زیر صحیح است؟

- (۱) از طریق فولدر Control panel امکان تنظیمات سخت افزاری و نرم افزاری وجود دارد.
- (۲) از طریق منوی Start می توان به فولدر Control panel دست یافت.
- (۳) فولدر Control panel از پنجره My Computer و Windows Explorer قابل دسترسی است.
- (۴) همه موارد

۲۳- کاربرد دستور Print Preview است. (iranarze)

- (۱) انجام تغییرات لازم در سند
- (۲) ویرایش سند
- (۳) مشاهده سند قابل چاپ
- (۴) پرینت سند

۲۴- multitasking به چه معناست؟

- (۱) استفاده هم زمان چندین کاربر از سیستم
- (۲) اجرای هم زمان چندین برنامه مختلف
- (۳) اجرای هم زمان چندین سیستم عامل
- (۴) باز کردن هم زمان چندین پنجره در ویندوز

۲۵- برای ادغام سلول های یک جدول از و برای جدا کردن یک سلول از استفاده میشود.

- (۱) Split cell - Merge Cell
- (۲) Insert cell - Merge Cell
- (۳) Split Table - Split cell
- (۴) Insert cell - Split cell

۲۶- راهکار تغییر Homepage مرورگر کدام است؟

(۱) ذخیره سازی یک صفحه وب به عنوان Bookmark

(۲) جست و جو در وب برای Homepage

(۳) استفاده از تنظیمات مرورگر

(۴) ارسال درخواست به ISP سرویس دهنده

۲۷- آدرس صفحات وب که اخیراً مورد استفاده قرار گرفته است، در کجا ذخیره می شود؟

(۱) Tools (۲) History (۳) Bookmark (۴) Favorites

۲۸- معمولاً از کدام دامنه جهت آدرس اینترنتی سازمان های دولتی استفاده می شود؟

(۱) com (۲) org (۳) gov (۴) ir

۲۹- کاربرد استفاده از SUMIF در اکسل چیست؟

(۱) محاسبه مجموع سلول هایی که در ستون IF قرار دارد.

(۲) محاسبه مجموع سلول هایی که شرط خاصی را داشته باشند.

(۳) فیلتر کردن سلول هایی که تابع SUM در آنها استفاده شده است.

(۴) فیلتر کردن سلول هایی که مجموع آنها در ستون IF قرار گرفته است.

۳۰- از کدام ابزار جهت چاپ سطر اول کاربرد در تمام صفحات یک سند اکسل استفاده می شود؟

(۱) Home > Cells > Fromat (۲) Home > Wrap Text

(۳) Page Layout > Print Titles (۴) Data > Text to Columns

۳۱- در خانه های A12 تا A128 در سلول B1 فرمول Count = (A12:A128) وارد شده است. مقدار سلول چیست؟

(۱) ۱۲۸ (۲) ۱۱۷ (۳) ۱۲۸! (۴) ۱۱۷!

۳۲- اگر مقادیر سلول های (A1=True ,B2=False ,C2=Ali) باشد، حاصل عبارت Count (A1;B2;C2) کدام است؟

(۱) ۱ (۲) ۲ (۳) ۳ (۴) ۰

۳۳- { ایران عرضه} در یک کاربرد از یک فایل اکسل، جهت انتخاب چند سطر که به طور متوالی واقع شده است، از کدام

کلید استفاده می شود؟

(۱) Alt (۲) Ctrl (۳) Insert (۴) Shift

۳۴- خروجی تابع داده شده کدام است؟ (منبع سوالات سایت ایران عرضه)

Round (۱۱۵/۳۶۸,۳)

(۱) ۱۱۵/۳۶۸ (۲) ۱۱۵/۳۶۹ (۳) ۱۱۵ (۴) ۱۱۵/۳۶۰

هوش ریاضی و استعداد سنجی (GMAT)

۳۵- ۵ گوی سبز، ۴ گوی سفید، ۳ گوی قرمز در کیسه ای وجود دارد. یک گوی به تصادف از کیسه خارج می کنیم. احتمال اینکه گوی خارج شده سفید نباشد چقدر است؟

(۱) یک سوم (۲) دو سوم (۳) هفت دوازدهم (۴) یک دوم

۳۶- اگر رابطه $0 < \frac{x}{y} < 1$ برقرار باشد، کدام یک از عبارت های زیر همواره بزرگ تر از ۱ است؟

(۱) $\frac{3x}{y}$ (۲) $\frac{x-1}{y-1}$ (۳) $\frac{y}{x}$ (۴) $\frac{x+1}{y+1}$

۳۷- شمع۱ در ۴ ساعت و شمع دیگری در ۳ ساعت به طور کامل می سوزد. اگر هر دو شمع طول یکسان داشته باشند و با هم روشن شوند، چند ساعت طول میکشد تا یکی از شمع ها نصف دیگری شود؟

(۱) $2\frac{1}{4}$ (۲) $1\frac{1}{2}$ (۳) $1\frac{1}{8}$ (۴) $1\frac{1}{5}$

۳۸- به جمعیت یک شهر ۱۲۰۰ نفر اضافه میشود سپس ۱۱ درصد از جمعیت کم شد. در این حالت ۳۴ نفر از جمعیت اول بیشتر است. جمعیت اولیه چند نفر بوده است؟

(۱) ۱۲۰۰ (۲) ۱۱۲۰۰ (۳) ۹۴۰۰ (۴) ۹۰۶۸

۳۹- در دنباله زیر عدد x کدام است؟

x , 5 , 8 , 13 , 21 , 34

(۱) ۲ (۲) ۳ (۳) ۴ (۴) ۱

۴۰- فردی از نقطه A شروع به حرکت می کند. ابتدا ۳۰ کیلومتر به شرق، سپس ۶۰ کیلومتر به شمال و در نهایت ۵۰ کیلومتر به شرق می رود. فاصله نقطه شروع و پایان حرکت چقدر است؟

(۱) ۸۰ (۲) ۱۴۰ (۳) ۱۰۰ (۴) ۱۵۰

۴۱- رمز یک کیف چهار رقمی است را فراموش کرده ایم. اگر امتحان کردن هر رمز ۲۰ ثانیه طول بکشد، حداکثر چقدر زمان لازم است تا کیف باز شود؟

(۱) ۵۵ ساعت (۲) $55\frac{1}{5}$ ساعت (۳) ۳۳ ساعت (۴) $33\frac{1}{6}$ ساعت

۴۲- علی دو سوم پولش را برای خرید کتاب و یک چهارمش را برای خرید دفتر اختصاص داده و ۱۴۰۰ تومان برایش مانده است. کل پول علی چقدر بوده است؟

(۱) ۱۶۸۰۰ (۲) ۲۴۰۰۰ (۳) ۱۴۰۰۰ (۴) ۲۶۰۲۰

۴۳- اگر مجموع ثلث و نصف عددی ۵ واحد بیشتر از سه چهارم آن عدد باشد، مجموع ارقام آن عدد کدام است؟

(۱) ۱۲ (۲) ۸ (۳) ۱۰ (۴) ۶

۴۴- برای کتابی با ۸۰۴ صفحه چند عدد سه رقمی استفاده کردیم؟

(۱) ۷۰۳ (۲) ۷۰۴ (۳) ۷۰۵ (۴) ۷۰۶

زبان انگلیسی

45- I got something for my cough from the chemist, so I go to the doctor.

- 1) shouldn't 2) must 3) don't have to 4) had to

46- The property was ours. It To us.

- 1) belong 2) belonged 3) belonging 4) dose not belong

47- The first meeting will be in the city hall, but all Meeting will be held in the school.

- 1) sufficient 2) former 3) subsequent 4) incipient

48- When the technique known as gene-splicing In the early 1970 s , it was feared that the scientists might inadvertently create an 'Andromeda strain'. A microbe never before seen on earth.

- 1) was invented 2) which invented 3) they invented 4) invented

49- The weather was we went to the beach most weekends.

- 1) such good last summer that 2) so good last summer that
3) too good last summer to 4) good enough last summer to

50- Currently 80 percent of drugs are shot down in early clinical trials because they are not effective or are even

- 1) intense 2) initial 3) toxie 4) prior

51- Some oh the Are endangered animals.

- 1) whales 2) goats 3) ducks 4) cats

52- My friend is standing the students in the class.

- 1) down 2) among 3) about 4) away

53- Our math teacher is going to teach a new lesson Monday.

- 1) Last 2) later 3) next 4) soon

54- Did you hear the news? They'll a bridge for the village.

- 1) build 2) building 3) built 4) to build

❖ فصل دوم: اصل سوالات استخدامی بانک قرض الحسنه مهر ایران اسفند ۱۴۰۲

➤ هوش و استعداد تحصیلی

با توجه به جدول به سوالات ۱ تا ۳ پاسخ دهید:

در جدول روبه‌رو قیمت چهار نوع کالا در مدت چهار سال بر حسب میلیون ریال نشان داده شده است.

۱- درصد تورم کالای نوع اول در مدت ۳ سال چقدر است؟

سال	۱	۲	۳	۴
۹۷	۲۰	۳۵	۲۵	۱۵
۹۸	۲۲	۳۸	۲۴	۱۷
۹۹	۲۵	۴۰	۲۰	۱۷
۱۴۰۰	۲۵	۴۵	۲۰	۲۰

(۱) $\frac{25}{100}$

(۲) $\frac{20}{100}$

(۳) $\frac{40}{100}$

(۴) $\frac{50}{100}$

❑ پاسخ سایت ایران عرضه: گزینه ۱ ➤ درصد تورم عبارت از نسبت اختلاف میان قیمت در دو سال به قیمت در سال اولیه.

به عنوان مثال در این مسئله قیمت اولیه ۲۰ بوده و قیمت سال چهارم برابر ۲۵ می‌باشد. لذا تورم در این چهار سال برابر است

با: $\frac{25-20}{20} = \frac{5}{20} = \frac{25}{100}$ لذا تورم در کالای اول برای ۴ سال برابر $\frac{25}{100}$ یا ۲۵٪ می‌باشد

۲- تورم کالای نوع دوم در مدت ۳ سال چند درصد تورم همان کالا در مدت ۴ سال است؟

(۱) $\frac{1}{2}$ (۲) ۵۰ (۳) ۱۰۰ (۴) ۱

۳- میانگین درصد تورم چهار نوع کالا در مدت ۴ سال چقدر است؟

(۱) $16/7$ (۲) $34/4$ (۳) $8/35$ (۴) $66/8$

۴- چند درصد اعداد دو رقمی رقم‌هایشان تکراری است؟

(۱) ۱۰٪ (۲) ۲۰٪ (۳) ۳۰٪ (۴) ۴۰٪

۵- سه نفر برای انجام کاری ۸۰ ساعت زمان نیاز دارند. پس از این‌که $\frac{3}{4}$ کار انجام شد، یک نفر به آن‌ها اضافه شد، در این

صورت تمام کار در چند ساعت انجام می‌شود؟

(۱) ۷۵ (۲) ۶۰ (۳) ۷۲ (۴) ۷۲

۶- در یک مجموعه ورزشی استخر در جنوب دفتر و زمین‌های تنیس در شمال آن واقع‌اند. اگر زمین‌های فوتبال در جنوب

شرقی زمین‌های تنیس و زمین‌های بسکتبال در غرب دفتر و در امتداد زمین‌های فوتبال قرار داشته باشند در این صورت:

(۱) زمین‌های تنیسی در شمال شرق زمین‌های فوتبال واقع است.

(۲) زمین‌های فوتبال در شمال غرب استخر واقع است.

(۳) زمین‌های بسکتبال در شمال غرب استخر واقع است.

۴) دفتر در شرق زمین‌های فوتبال واقع است.

۷- به جای علامت سؤال کدام جواب را باید قرار داد؟ و $\frac{3}{4}$ و $\frac{4}{6}$ و $\frac{5}{8}$

- (۱) $\frac{2}{3}$ (۲) ۲ (۳) $\frac{2}{3}$ (۴) $\frac{1}{2}$

۸- فرید بزرگتر از فرداد و فرناز، ولی فرید کوچکتر از فرزاد است. بنابراین به طور ختم می‌توان گفت:

- (۱) فرداد بزرگتر از فرناز است. (۲) فرداد کوچکتر از فرناز است.
(۳) فرزاد بزرگتر از فرداد است. (۴) هر دو جواب (۱) و (۲) درست هستند.

۹- عکس یک عدد با $\frac{1}{4}$ آن برابر است. آن عدد کدام است؟

- (۱) ۲ (۲) -۲ (۳) ± 2 (۴) ۴

۱۰- سرعت متوسط اتومبیلی ۷۲ کیلومتر در ساعت است. محمد هر چرخ آن تقریباً ۳ متر است. در مدت یک دقیقه حرکت، هر چرخ چند دور می‌چرخد؟

- (۱) ۴۰۰ (۲) ۲۰۰ (۳) ۶۰۰ (۴) ۲۴۰

۱۱- اگر مساحت مربع به ضلع a ، $\frac{2}{5}$ برابر مساحت مربع به ضلع b باشد، بین a و b کدام رابطه برقرار است؟

- (۱) $a = 0.5b$ (۲) $a = 0.5b$ (۳) $10a = 25b$ (۴) $2a = b\sqrt{10}$

۱۲- در یک دبیرستان ۱۵۰ نفری تعداد شاگردان کلاس اول ۳۵ نفر، تعداد شاگردان کلاس دوم ۲۵ نفر و تعداد شاگردان کلاس سوم ۱۰ درصد کل شاگردان است. تعداد شاگردان کلاس چهارم چند درصد کل شاگردان دبیرستان است؟

- (۱) ۲۵ (۲) ۵۰ (۳) ۷۵ (۴) ۱۵

۱۳- (تالیف توسط سایت ایران عرضه) کبریت به تبریک مثل:

- (۱) شتاب است به تابش (۲) وصلت است به صولت
(۳) قمر است به رقم (۴) نماز است به زمان

۱۴- به جای علامت سؤال چه عددی قرار می‌گیرد؟

۳	۷	۱۹
۴	۱۰	۲۸
۵	۱۳	؟

- (۱) ۳۶

- (۲) ۴۲

- (۳) ۳۷

- (۴) ۴۸

۱۵- در یک فروشگاه نوشت افزار، جعبه‌های مداد که هر جعبه شامل فقط یک رنگ مداد قرمز، سبز، آبی، سیاه است به ترتیب در پهلوی یکدیگر و هر ۶ جعبه مداد یک رنگ مجاور هم واقع‌اند. جعبه ردیف ۱۰۳ شامل کدام رنگ مداد است؟

- (۱) قرمز (۲) سبز (۳) آبی (۴) سیاه

۱۶- اگر ۲ لیتر آب را داخل یک ظرف مکعب شکل خالی به طول ضلع ۲۰ سانتی متر بریزیم، چه درصدی از گنجایش حجم مکعب خالی می ماند؟

- (۱) ۳۰ (۲) ۶۰ (۳) ۷۵ (۴) ۴۰

۱۷- یک کارتن نمک محتوی ۲۰ قوطی نمک به ۱۸۰ ریال خریداری شده اند و هر قوطی بخ ۱۰ ریال فروخته شده است. فروش یک قوطی نمک چند درصد نفع داشته است؟

- (۱) ۱۱۱ (۲) ۱۱ (۳) ۸۹ (۴) ۱۰

۱۸- نسبت میان کلمه های کدام گزینه با بقیه متفاوت می باشد؟

- (۱) هنر و موسیقی (۲) پرند و سیمرغ (۳) بهار و فروردین (۴) چوب و عود

۱۹- یک ساعت دیواری در ساعت ۳، تعداد سه زنگ می زند و مدت ۳ ثانیه طول می کشد اگر این ساعت در ساعت ۹ تعداد نه زنگ بزند مدت زنگ چند ثانیه طول خواهد کشید؟

- (۱) ۱۰ (۲) ۹ (۳) ۱۱ (۴) ۱۲

۲۰- مساحت یک دایره با مساحت یک مربع برابر است. در این صورت:

- (۱) محیط هر دو شکل با هم برابر است (۲) محیط مربع بیشتر است
(۳) محیط دایره بیشتر است (۴) مقایسه دو محیط بستگی به اندازه شعاع دایره دارد

کامپیوتر

۲۱- برای چاپ صفحه ای که مکان نما در آن است در کادر مکالمه print کدام گزینه را باید انتخاب نمود؟

- (۱) All (۲) Selection (۳) Current page (۴) Add pages

۲۲- برای شمارش تعداد کلمات یک متن از کدام مسیر باید اقدام نمود؟

- (۱) از سربرگ review و از گروه proofing و ابزار spelling & grammar
(۲) از سربرگ home و از گروه proofing و ابزار spelling & grammar
(۳) از سربرگ insert و از گروه proofing و ابزار spelling & grammar
(۴) از سربرگ reference و از گروه proofing و ابزار spelling & grammar

۲۳- برای ایجاد فهرست مطالب از کدام مسیر باید اقدام نمود؟

- (۱) Caption / insert table of figures
(۲) Reference / table of contents / add text
(۳) Caption / cross – reference
(۴) Reference / table of contents / table of contents

۲۴- انتخاب کدام گزینه در کادر محاوره ای delete cells باعث جایگزینی از سمت راست خانه انتخاب شده می شود؟

Shift cells right (۲)

Shift cells up (۱)

Delete entire column (۴)

Delete entire row (۳)

۲۵- انتخاب کدام گزینه در کادر paragraph فاصله بین خطوط دو برابر تنظیم می‌کند؟

Exactly (۴) At least (۳) Double (۲) Single (۱)

۲۶- کدام گزینه از تب number و از قسمت category برای تعیین قالب اعداد به صورت پولی می‌باشد؟

Currency (۴) Accounting (۳) Special (۲) Percentage (۱)

۲۷- برای ایجاد یادداشت متنی برای یک سل چگونه باید عمل نمود؟

(۱) از سربرگ insert و از گروه comment بر روی new comment کلیک می‌کنیم.

(۲) از سربرگ formulas و از گروه comment بر روی new comment کلیک می‌کنیم.

(۳) از سربرگ review و از گروه comment بر روی new comment کلیک می‌کنیم.

(۴) از سربرگ home و از گروه view بر روی new comment کلیک می‌کنیم.

۲۸- نام فایل در ویندوز حداکثر چند کاراکتر می‌تواند باشد؟

(۱) ۱۱ (۲) ۲۵۶ (۳) ۸ (۴) محدودیت ندارد

۲۹- حاصل فرمول $\min(\text{sum}(4;3); \text{Max}(2;3))$ چیست؟

(۱) ۱۰ (۲) ۷ (۳) ۳ (۴) ۲

۳۰- خطایی که زمانی اکسل متنی را در فرمول درست تشخیص ندهد ظاهر می‌شود چیست؟

(۱) #value (۲) ##### (۳) #name? (۴) #div/o!

۳۱- کدام یک از فرمول‌های زیر معدل اعداد درون سلول‌های c4 تا c8 را نمایش می‌دهد؟

(۱) = average (c4 : c8) (۲) = sum (c4 : c8)

(۳) = average (c4 ; c8) (۴) = sum (c4 ; c8)

۳۲- برای نشان دادن عدد به صورت کسر از کدام گزینه‌ها استفاده می‌شود؟

(۱) Currency (۲) Scientific (۳) Accounting (۴) Fraction

۳۳- کدام یک از دامنه‌های زیر آموزشی بودن سایت را نشان می‌دهد؟

(۱) edu (۲) mil (۳) org (۴) net

۳۴- جهت حذف آدرس‌هایی که قبلاً مرور کرده‌ایم، از کدام دکمه پنجره internet option استفاده می‌کنیم؟

(۱) Delete file (۲) Delete cookies

(۳) Clear history (۴) Use default

۳۵- کدام عبارت کلیدی می‌تواند برای جستجوی اطلاعاتی درباره مناطق تهران به جز شهر ری به کار رود؟

(۲) استان + تهران + شهر + ری

(۱) "استان تهران" + شهر ری

(۴) "استان تهران" - شهر ری

(۳) استان تهران شهر ری

۳۶- اگر A1 ، A2 ، به ترتیب مقادیر ۱ و ۳ داشته باشند و این مقادیر را با ماوس تا A10 کپی کنیم مقدار A9 چه خواهد بود؟

(۱) ۱ (۲) ۳ (۳) ۱۷ (۴) مقداری نمی‌گیرد

۳۷- برای قالب‌بندی اعداد، تاریخ، زمان، از کدام سربرگ پنجره format cell استفاده می‌شود؟

(۱) Alignment (۲) Number (۳) Border (۴) Protection

۳۸- از چه گزینه‌ای برای مرتب کردن محتوای یک ستون استفاده می‌شود؟

(۱) سربرگ home گروه editing گزینه fill

(۲) سربرگ home گروه editing گزینه filter & sort

(۳) سربرگ insert گروه editing گزینه sort

(۴) سربرگ insert گروه editing گزینه filter

۳۹- از کدام گزینه جهت ادغام سلول‌ها استفاده می‌شود؟

(۱) Home – alignment – unmerge calls (۲) Home – alignment – merge cells

(۳) Home – alignment – split cells (۴) Home – alignment – split table

۴۰- از کدام سبک برای قالب‌بندی سرفصل‌های اصلی استفاده می‌شود؟

(۱) Heading 2 (۲) Heading 3 (۳) Heading (۴) Normal

زبان انگلیسی عمومی

41- Which of the following words is just a root?

1) act 2) eject 3) reject 4) friendship

42- (source: iran arze website) Because the mental picture of the subject was important for me, I looked for the On the internet.

1) sum 2) image 3) caution 4) imagination

43- The teaching and the of students took a lot of our teacher's time.

1) entertain 2) entertains 3) entertained 4) entertainment

44- I think this desert is a(n) place. It is not good place to live there.

1) hospitable 2) inhospitable 3) interesting 4) good

45- Many young Iranian's indulge in watching football games, "indulge" means

1) worry 2) wander 3) hate 4) enjoy

46- It is sometimes difficult to get the message of a passage. "Get" means

- 1) understand 2) forget 3) give 4) miss

47- The entries are printed in In most dictionaries. They have thick, heavy lines used for emphasis.

- 1) hero 2) antihero 3) blodface 4) paperback

48- The term " " Refers to the scientific study of the origin, history and changing meanings of words.

- 1) history 2) etymology 3) economics 4) geography

49- Since some words have more than one definition, you must choose the one that best fits the sentence you are reading or writing. "One" refers to

- 1) word 2) writing 3) reading 4) definition

50- A person who helps of supports somebody else, especially in his jobs, is called

- 1) assist 2) assisted 3) assistant 4) assistance

51- (authorship: iranarze.ir) Do you know where the of the new film is?

- 1) location 2) located 3) locates 4) locate

52- In journals we generally select those articles that relate to our profession. "select" means.

- 1) lose 2) forgive 3) forget 4) choose

53- If she had enough time, she would hard.

- 1) studies 2) study 3) studying 4) to study

54- some of these techniques are obvious and others are not. "Obvious" means

- 1) clear 2) unclear 3) vague 4) uncommon

55. The first category involves breaking down information into major points. "Major" means

- 1) insignificant 2) unimportant 3) important 4) insufficient

56- She can not to buy such an expensive car. She does not have enough money to buy it.

- 1) appear 2) afford 3) associate 4) acquire

57. The lecturer discussed an important issue this. "Issue" means

- 1) tissue 2) pursuit 3) mastery 4) matter

58- Although Tehran is the capital of Iran, it is not at the center of the country. "it" refers to

- 1) Iran 2) center 3) Tehran 4) capital

59- These noisy conditions aren't conducive to reading, "conducive" means

- 1) common 2) logical 3) pleasurable 4) helpful

60- Considering the child's , the thief must have left the city.

- 1) remarks 2) concentration 3) competition 4) incentive

ریاضی و آمار

۶۱- دو تاس را در آن واحد با هم می‌اندازیم. روی وجه‌های ۶ گانه تاس‌ها عددهای یک تا شش نوشته شده است. احتمال

اینکه مجموع دو عددی که تاس‌ها نشان می‌دهند، حتماً ده باشد، کدام است؟

- (۱) $\frac{1}{10}$ (۲) $\frac{1}{12}$ (۳) $\frac{1}{36}$ (۴) $\frac{1}{6}$

۶۲- دامنه‌ی تابع $f(x) = \sqrt{1 - \log^3(x - 3)}$ کدام است؟

- (۱) $(3.6]$ (۲) $(2. + \infty)$ (۳) (0.3) (۴) $(3.4]$

۶۳- اگر $f\left(\frac{1}{x}\right) = \frac{2x^2}{x^2 - 1}$ باشد، در این صورت ضابطه‌ی $f(1 + x)$ کدام است؟

- (۱) $\frac{-x^2}{x^2 + 2x}$ (۲) $\frac{x^2}{x^2 + 2x}$ (۳) $\frac{2}{x + 2x}$ (۴) $\frac{-2}{x + 2x}$

۶۴- اگر تابع هزینه‌ی کل به صورت $TC = \frac{x^2}{4} + 2x$ و تابع تقاضا به صورت $P = 20 - \frac{x}{2}$ باشد، به ازای چه مقدار تولید، سود

ماکزیم است و سود ماکزیم کدام است؟

- (۱) $x = 12$ و سود ماکزیم برابر ۱۰۸ (۲) $x = 12$ و سود ماکزیم برابر ۷۲

- (۳) $x = 6$ و سود ماکزیم برابر ۱۰۸ (۴) $x = 6$ و سود ماکزیم برابر ۷۲

۶۵- با حروف کلمه MAHARAT چند رمز عبور چهار حرفی می‌توان ساخت؟

- (۱) ۱۳۶ (۲) ۱۹۲ (۳) ۲۰۸ (۴) ۲۱۰

۶۶- اگر مجموعه‌های A و B به ترتیب ۷ و ۱۴ عضو داشته و مجموعه A - B نیز دارای ۳ عضو باشد، مجموعه B - A چند عضو

دارد؟

- (۱) ۷ (۲) ۱۱ (۳) ۱۰ (۴) ۴

۶۷- در صورتی که برخی از داده‌های آماری در یک سری داده مرتب شده معلوم نباشند، امکان محاسبه کدام پارمتر مرکزی

زیر میسر می‌باشد؟

- (۱) میانگین (۲) مد (۳) میانه (۴) واریانس

۶۸- با تغییر مدیر در یک فروشگاه بزرگ، فروش در سال اول دو برابر سال قبل، در سال دوم سه برابر سال اول و در سال

سوم چهار برابر سال دوم شده است. به طور متوسط فروش از آغاز مدیریت جدید چند برابر شده است؟

- (۱) $\frac{2}{78}$ (۲) $\frac{2}{88}$ (۳) $\frac{3}{88}$ (۴) بیش از ۳ برابر

۶۹- چارک اول داده‌های جدول زیر کدام است؟

حدود طبقات	۱ - ۵	۵ - ۹	۹ - ۱۳	۱۳ - ۱۷
فراوانی	۹	۸	۱۱	۱۴

$$\frac{۲۳}{۴} \text{ (۴)}$$

$$\frac{۲۳}{۸} \text{ (۳)}$$

$$\frac{۴۳}{۴} \text{ (۲)}$$

$$\frac{۴۷}{۸} \text{ (۱)}$$

۷۰- اگر ضریب پراکندگی حقوق کارمندان ۷۰ درصد باشد و ۱۰ درصد از حقوق هر کارمند کم کنیم، ضریب تغییرات جدید چقدر خواهد شد؟

$$\%۶۵ \text{ (۴)}$$

$$\%۶۰ \text{ (۳)}$$

$$\%۷۰ \text{ (۲)}$$

$$\%۶۳ \text{ (۱)}$$

◀ اطلاعات عمومی (دانش علوم بانکی، اقتصادی، بازار های مالی و سرمایه و

بازاریابی)

۷۱- در یک شرایط انحصاری تولیدکننده..... است.

(۱) به دنبال حداکثر ساختن سود خود از طریق افزایش تولید و قیمت

(۲) به دنبال کاهش قیمت‌ها و افزایش تولید به خاطر جلوگیری از ورود سرمایه‌گذاران جدید

(۳) به دنبال افزایش سود خود از طریق کاهش تولید و افزایش قیمت

(۴) درصدد افزایش سود خود از طریق تنوع بخشیدن به تولید

۷۲- تنزل ارزش رسمی پول یعنی:

(۱) نرخ دلار در قبال ریال افزایش یابد

(۲) نرخ ارزهای عمده در قبال ریال افزایش یابد

(۳) ریال نسبت به دلار ضعیف شود

(۴) پول ملی در قبال اسعار خارجی تضعیف شود

۷۳- فروش اوراق مشارکت دولتی در جامعه موجب کدام یک از این حالات می‌شود؟

(۱) افزایش نرخ بهره

(۲) بسط اعتبار

(۳) افزایش پس‌انداز بخش خصوصی

(۴) کاهش سرمایه‌گذاری بخش خصوصی

۷۴- تورم عبارت است از افزایش:

(۱) قیمت‌ها

(۲) سطح قیمت‌ها در یک سال

(۳) مستمر سطح عمومی قیمت‌ها

(۴) مستمر سطح عمومی قیمت‌های مصرفی

۷۵- اگر ریال در مقابل دلار تضعیف شود برای یک بازرگان بهتر است که:

(۱) صادرات خود را افزایش دهد

(۲) واردات خود را افزایش دهد

۳) اقدام شخصی نکند ۴) هم صادرات و هم واردات را به یک نسبت افزایش دهد

۷۶- افزایش هزینه های دولت موجب تورم می شود، زیرا:

۱) دولت قیمت کالاهای خود را افزایش می دهد

۲) موجب ایجاد جو روانی تورمی می شود

۳) موجب افزایش تقاضا می شود

۴) دولت مجبور است درآمدهای خود را هم زیاد کند

۷۷- تولید ناخالص داخلی (GDP) یک کشور:

۱) جمع کل ارزش کالاهای است که در داخل یک کشور تولید می شود.

۲) جمع کل ارزش کالاهایی است که توسط مردم یک کشور چه در داخل و چه در خارج تولید می شود.

۳) جمع کل ارزش کالاهای نهایی است که در داخل یک کشور تولید می شود.

۴) جمع کل ارزش کالاهای نهایی است که توسط مردم یک کشور چه در داخل و چه در خارج تولید می شود.

۷۸- استقرار دولت از بانک مرکزی به منظور تامین کسری بودجه:

۱) موجب افزایش فعالیتهای اقتصادی و کاهش تورم است.

۲) موجب افزایش فعالیتهای اقتصادی و افزایش تورم است.

۳) موجب افزایش تورم و احتمالاً افزایشی فعالیتهای اقتصادی است.

۴) موجب کاهش تورم و احتمالاً افزایش فعالیتهای اقتصادی است.

۷۹- تولید ناخالص داخلی عبارت است از:

۱) ارزش پولی کلیه تولیدات صنعتی و کشاورزی طی یک سال

۲) ارزش ریالی کلیه تولیداتی که از مسیر سیستم بانکی عبور می کن

۳) ارزش پولی کلیه کالا و خدمات که طی یک دوره مالی در کشور تولید می شود

۴) ارزش پولی کلیه داد و ستدهایی که در یک دوره مالی انجام می شود

۸۰- ال سی (L/C) یعنی:

۱) اعتبار وثیقه ای ۲) خرید نسیه بدون زمان بازپرداخت مشخص

۳) منحنی یادگیری ۴) اعتبارنامه ای که بانک از طرف خریدار به فروشنده می دهد

۸۱- کدام یک از عقود اسلامی زیر کوتاه مدت نمی باشد؟

۱) قرض الحسنه ۲) مزارعه ۳) جعاله ۴) اجاره به شرط تملیک

۸۲- در کدامیک از گزینه های زیر، اشخاص می توانند دسته چک دریافت کنند؟

۱) سپرده قرض الحسنه پس انداز ۲) سپرده قرض الحسنه جاری

۸۳- اگر مجموع ذخایر قانونی ۴۰ واحد و مجموع وام‌های پرداختی ۱۶۰ واحد باشد، حجم سپرده‌ها چقدر خواهد بود؟

- (۱) ۱۲۰ (۲) ۱۰۰ (۳) ۲۰۰ (۴) ۸۰

۸۴- سرمایه یک مؤسسه تجاری عبارت است از:

- (۱) دارایی‌های مؤسسه تجاری
(۲) دارایی‌ها منهای بدهی‌های مؤسسه تجاری
(۳) آورده نقدی صاحب یا صاحبان مؤسسه
(۴) آورده غیرنقدی و نقدی صاحب یا صاحبان مؤسسه

۸۵- گزارش سود و زیان در یک مؤسسه کدام است؟

- (۱) وضعیت سود یا زیان مؤسسه که سامانه گزارش می‌شود
(۲) سودآوری مؤسسه که در پایان سال گزارش می‌شود
(۳) زیان مؤسسه که در پایان سال مشخص می‌شود
(۴) نتیجه عملیات یک مؤسسه که در یک دوره مالی مشخص می‌شود

۸۶- سود ناویژه در یک مؤسسه تجاری کدام است؟

- (۱) همان سود ناخالص
(۲) درآمد حاصل از فروش کالا یا خدمات
(۳) درآمد حاصل از فروش دارایی ثابت
(۴) هر سه جواب صحیح است

۸۷- ریسک یک سرمایه‌گذاری یعنی:

- (۱) احتمال ورشکستگی سرمایه‌گذار
(۲) احتمال از دست دادن منبع سرمایه‌گذاری
(۳) خطراتی که بالقوه سرمایه‌گذاری را تهدید می‌کند
(۴) احتمال عدم تحقق بازده مورد انتظار از سرمایه‌گذاری

۸۸- نرخ بازدهی مورد انتظار سرمایه‌گذاران در سهام شرکت‌ها می‌تواند به شرح زیر باشد:

- (۱) نرخ اعلام شده جهت اوراق مشارکت
(۲) نرخ اتمام شده جهت سپرده کوتاه‌مدت بانکی
(۳) نرخ سود سپرده‌های بلندمدت بانکی
(۴) درصدی بالاتر از بالاترین نرخ سپرده‌های بانک یا ریسک سرمایه‌گذاری

۸۹- هدف اصلی بانک مرکزی از وظیفه متولی ذخایر ملی بودن، می‌باشد.

- (۱) ثبات قیمت‌ها (۲) حداکثرسازی سود (۳) ثبات نرخ ارز (۴) افزایش رفاه عمومی

۹۰- در عقد جعاله کسی که عمل را انجام می‌دهد یا پیمانکار و شخصی که تعهد پرداخت اجرت را دارد و مبلغ پرداختی را گویند.

(۲) جاعل، عامل، عوض

(۱) عامل، جاعل، جعل

(۴) عامل، مالک، عوض

(۳) مالک، جاعل، جعل

۹۱- سیاست پولی از طریق کدام گزینه می‌تواند زمینه افزایش سرمایه‌گذاری بخش خصوصی را فراهم کند؟

(۲) افزایش نرخ بهره

(۱) کاهش نرخ بهره

(۴) کاهش درآمد

(۳) افزایش درآمد

۹۲- کدام یک از گزینه‌های زیر از عوامل مؤثر بر تقاضای ارز نمی‌باشد؟

(۲) وام از کشورهای دیگر

(۱) واردات

(۴) پرداخت‌های انتقالی

(۳) سرمایه‌گذاری داخلی

۹۳- اهمیت ذخیره قانونی به چه دلیلی است؟

(۲) کاهش نقدینگی بانک‌ها

(۱) اعمال سیاست پولی

(۴) تامین نقدینگی بانک‌ها

(۳) اعمال سیاست مالی

۹۴- بزرگترین و مهمترین سرمایه که باعث سودآوری یک بانک می‌شود، کدام یک از موارد ذیل می‌باشد؟

(۴) سیستم

(۳) مشتری

(۲) کارمند

(۱) مدیر

۹۵- کدام یک از موارد ذیل از کاربردهای دستگاه خودپرداز نمی‌باشد؟

(۲) دریافت وجه از مشتریان

(۱) پرداخت قبوض

(۴) پرداخت وجه از مشتریان

(۳) انتقال وجه

۹۶- منظور از قیمت اسمی چیست؟

(۲) قیمت مورد معامله

(۱) قیمت بازار

(۴) قیمت ثبت شده در برگه سهام

(۳) قیمت ذاتی

۹۷- وظیفه مهم یک بازار سرمایه..... است.

(۲) کاهش ریسک

(۱) افزایش بازده

(۴) کاهش هزینه معاملات

(۳) تخصیص بهینه منابع

۹۸- هدف بازاریابی چیست؟

(۲) درک و شناخت رفتار مصرف‌کننده

(۱) درک رفتار مصرف‌کننده

(۳) تامین و برآورده ساختن نیازهای مصرف‌کننده (۴) تجزیه و تحلیل رفتار مصرف‌کننده

۹۹- حداقل سن برای افتتاح حساب سپرده قرض الحسنه عادی توسط خود شخص.... تمام می‌باشد.

(۴) ۱۶ سال

(۳) ۱۲ سال

(۲) ۱۵ سال

(۱) ۱۸ سال

۱۰۰- دسترسی مشتریان به خدمات بانکی به صورت غیرحضوری و با استفاده از واسطه‌های ایمن را می‌نامند.

۱) تجارت الکترونیک

۲) اینترنت بانک

۳) بانکداری الکترونیک

۴) همراه بانک



❖ فصل سوم: اصل سوالات عمومی و تخصصی استخدامی بانک رفاه ۱۴۰۱

۱- از چه دستوری در سطل، بازیافت کامپیوتر برای برگرداندن فایل حذف شده استفاده میشود؟

Redo (۱) Restore (۲) Remove (۳) Rename (۴)

❑ پاسخ سایت ایران عرضه: گزینه ۲ ➡ در سطل زباله فایل هایی که به صورت کلی از سیستم حذف نشده اند را میتوان با

دستور restore به محل سابق خود که در آن قرار داشتند بازگرداند.

۲- اگر محل ذخیره فایل یا نام آن را فراموش کنیم از کدام قسمت میتوانیم استفاده کنیم؟

Help (۱) Control Panel (۲) Search (۳) Wordpad (۴)

۳- با فشردن کدام دکمه در یک فایل ورد میتوان سطر جدیدی ایجاد کرد؟

Delete (۱) Enter (۲) Insert (۳) Shift (۴)

۴- تابعی که مجموع اعداد در یک فایل اکسل را محاسبه میکند کدام است؟

Sum (۱) Count (۲) Average (۳) Math (۴)

۵- کدام گزینه کاربرد اصلی اکسل نیست؟

(۱) تهیه دفاتر حسابداری (۲) انجام امور نشر رومیزی و تایپ

(۳) تهیه نمودار گرافیکی (۴) فاکتور فروش

۶- جهت ادغام سلولها از کدام گزینه استفاده میشود؟

Wrap Text (۱) Justify (۲) Merge Cells (۳) Shrink To Fit (۴)

۷- کدام ترکیب مناسبت کمتری با سه گزینه دیگر دارد؟

(۱) قاضی و مغضوب (۲) سائل و مسئول (۳) قاصد و مقصود (۴) حاصل و محصول

۸- نسبت به تیغ مثل فرو رفتن است به؟

(۱) برندگی- نیزه (۲) برندگی- میخ (۳) شمشیر - دست (۴) نیزه - کارد

۹- اولین بانک اینترنتی واقعی در کدام کشور بوده است؟

(۱) ایالات متحده (۲) ژاپن (۳) انگلستان (۴) فرانسه

۱۰- ریاست شورای عالی بانک ها بر عهده کدام عضو شرکت کننده در این شورا میباشد؟

(۱) رئیس کل بانک مرکزی (۲) وزارت امور اقتصادی و دارایی

(۳) مدیر کل بانک ملی (۴) رئیس سازمان برنامه و بودجه

۱۱- اگر حساب دو طرف در شعبه از یک بانک نگهداری شود دستور انتقال منابع مزبور از کدام یک از الگوهای زیر پیروی می

کند؟

(۱) تنها یک بانک دخیل باشد (۲) سه بانک دخیل باشند

(۳) دو بانک دخیل باشند (۴) فقط بانک مرکزی دخیل باشد

۱۲- کدام دوران در واقع دوره شکل گیری بانکداری الکترونیک به شمار می آید؟

(۱) دوره اول (۲) دوره دوم (۳) دوره سوم (۴) دوره چهارم

۱۳- مهم ترین ویژگی دوره سوم سیر تحول فناوری اطلاعات در صنعت بانکداری در کدام گزینه آمده است؟

(۱) افزایش تعداد کارمندان و رضایت ارباب رجوع

(۲) توسعه جزیره ای سیستم های ماشینی در جلوی باجه و پشت باجه

(۳) دسترسی آنی کارمندان به حسابهای جاری مشتریان

(۴) کاهش هزینه ها و افزایش رضایتمندی مشتریان

۱۴- هدف مدیریت شرکت بایستی.....شرکت باشد ؟

(۱) به حداکثر رساندن سود (۲) به حداکثر رساندن ارزش سهام

(۳) به حداقل رساندن هزینه ها (۴) به حداقل رساندن ریسک ورشکستگی

۱۵- مدیریت مالی مدیریت منابع و مصارفه سرمایه است تا؟

(۱) ثروت سهام داران را حداکثر کند (۲) سود هر شرکت را حداکثر کند

(۳) قیمت هر سهم را حداکثر کند (۴) ریسک شرکت را حداقل کند

۱۶- حساب دو طرفه در دو شعبه از یک بانک نگهداری شود دستور انتقال منابع مزبور از کدامیک از الگوهای زیر پیروی می

کند؟

(۱) تنها یک بانک دخیل باشد (۲) دو بانک دخیل باشند

(۳) سه بانک دخیل باشند (۴) فقط بانک مرکزی دخیل باشد

۱۷- کدامیک از موارد زیر جزو کنترل های داخلی مالی نیست؟

(۱) کنترل فاکتور های فروش (۲) کنترل مرغوبیت کالا

(۳) نگهداری حساب های کنترل (۴) تهیه صورت مغایرت بانکی

۱۸- آگاهی حسابرس از صنعتی که صاحب کار در آن فعالیت کند بخشی از مفاد استاندارد؟

(۱) اول از استاندارد های عمومی است (۲) دوم از استاندارد های عمومی است

(۳) سوم از استاندارد های عمومی است (۴) دوم از استاندارد های اجرای عملیات است

۱۹- قبل از پذیرش صاحب کار جدید حسابرس کدامیک از کار های زیر انجام نمی دهد؟

(۱) تماس با حسابرس قبلی (۲) بررسی توانایی انجام کار

(۳) زمان بندی اجرای روشهای حسابرسی (۴) تحقیق در مورد حسن شهرت مدیران صاحب کار

۲۰- ثبت منافع اقتصادی به عنوان دارایی و ثبت تعهدات اقتصادی به عنوان بدهی مبتنی بر کدام اصل یا فرض حسابداری است؟

(۱) اهمیت (۲) بهای تمام شده (۳) تدام فعالیت (۴) تفکیک شخصیت

۲۱- به طور معمول استفاده از روش های تحلیلی در رسیدگی به.....کاربرد بیشتری دارد ؟

(۱) ترازنامه (۲) صورت سود و زیان (۳) صورت سود و زیان انباشته (۴) صورت جریان وجوه نقد



❖ فصل چهارم: سوالات آزمون استخدامی بانک رفاه ۴ مهر ۱۴۰۴

◀ سوالات ادبیات فارسی

۱- در گزینه معنای واژه ای نادرست نوشته شده است.

- (۱) (محاسن: ریش) (خفایا: پنهان) (۲) (تجلیل: بزرگداشت) (تجلی: جلوه گری)
(۳) (متلاطم: آشفته) (ازدحام: شلوغی) (۴) (جسارت: دلیری) (ترجیح: برتری)

❑ پاسخ سایت ایران عرضه: گزینه ۴ ➡ در گزینه چهارم، اگرچه «جسارت» به معنای دلیری است، ولی «ترجیح» به معنای «برتری» نیست، بلکه به معنای «برتری دادن یا ترجیح دادن چیزی بر چیز دیگر» است. یعنی واژه به خودی خود مفهوم «برتری» را نمی‌رساند، بلکه عمل برتر دانستن را بیان می‌کند. بنابراین معنای داده شده برای «ترجیح» در این گزینه نادرست است.

۲- معنی درست واژگان «مذلت، تاب، قهر، حکمت» به ترتیب در کدام گزینه آمده است؟ (iranarze.ir)

- (۱) خواری، فروغ، چیره، معرفت (۲) سستی، پایداری، خشمگین، دانایی
(۳) فرومایگی، طاقت، چیرگی، دانش (۴) زبونی، توانایی، غضب، سعادت

۳- در همه ابیات به جز بیت گزینه واژگان مترادف به چشم می‌خورد.

- (۱) بسته شد عزم ملک را چشم و گوش خوف و رعب آمد به جای عقل و هوش
(۲) مزدگانی بده ای نفس که سختی بگذشت دل گرانی مکن ای جسم که جان باز آمد
(۳) چو بازان ساعد سلطان گزیدم چو کرکس بوی مرداری نخواهم
(۴) کو مبر جانب گلشن، قفسم را صیاد بس بود ناله ای از حسرت گلزار مرا

۴- در کدام گروه کلمه، «غلط املایی» یافت میشود؟

- (۱) استیصال و درماندگی، بزم و ضیافت، قسیم و صاحب جمال
(۲) سفله و فرومایه، عصاره و شیر، ضجه و شیون
(۳) ضماد و مرهم، بحبوحه و میانه، مطاع و فرمانروا
(۴) مفرح و شادی بخش، فاحش و واضح، صریر و اورنگ

۵- در متن زیر چند غلط املایی وجود دارد؟

«هرگاه حوادث به عاقل محیط شود باید که در پناه صواب دود و بر خطا اسرار ننماید و آن را ثبات عزم و حسن عهد نام نکند و اگر خار در چشم مستبد افتد در بیرون آوردن آن غفلت ورزد و آن را خار دارد و بی شبهت کور شود و بر خردمندی واجب است که به غذاهای آسمانی ایمان آرد و جانب دوراندیشی را مهمل نگذارد»

- (۱) یک (۲) دو (۳) سه (۴) چهار

۶- ساختار کدام واژه با بقیه متفاوت است؟

۷- مفهوم عبارت زیر با همه ابیات تناسب مفهومی دارد، به جز

«حالی ثواب آن باشد که جمله به طریق تعاون قوتی کنید تا دام را از جای برگیریم که رهایش ما در آن است.»

- (۱) مورچگان را چو بود اتفاق شیر ژیان را بدرانند پوست
(۲) آب را چون مدد بود هم از آب گلستان گردد آن چه بود خراب
(۳) مروت نبینم رهایی زبند به تنها و یارانم اندر کمند
(۴) دو دوست با هم اگر یکدل اند در همه کار هزار طعنه دشمن به نیم جو نخرند

۸- همه ابیات با بیت زیر قرابت مفهومی دارد به جز

- «سخن گفته دگر باز نیاید به دهن اول اندیشه کند مرد که عاقل باشد»
(۱) سخن چون برابر شود با خرد روان سراینده رامش برد
(۲) سخن گر چو گوهر برارد فروغ چو ناباور افتد نماید دروغ
(۳) بدان کز زبان است مردم به رنج چو رنجش نخواهی سخن را بسنج
(۴) سخن پیش فرهنگیان سخته گوی به هر کس نوازنده و تازه روی

۹- پیام نهایی کدام بیت با سایر ابیات متفاوت است؟

- (۱) به اندک زوری از هم تار و پود جسم می باشد غنیمت دار در این وحشت سرا جمعیت خود را
(۲) غنیمت می شمارم صحبت گل، نیستم بلبل که عمرم بگذرد ایام گل در آشیان بستن
(۳) از دست منه عنان فرصت که حیات رخشی است که همچو برق در تاختن است
(۴) به دام دوربینی صید کن این برق جولان را که تا بر خویشتن جنبیده ای فرصت نمی ماند

۱۰- مفهوم بیت زیر با کدام بیت قرابت دارد؟

- «هنگامی که در فروتنی بزرگ باشیم، بیش از همه به آن بزرگ نزدیک شده‌ایم»
(۱) خوی مهان بگير و تواضع کن آن را که او به دانش والا شد
(۲) چون زلف بتان شکستگی عادت کن تا صیر کنی هزار دل در نفسی
(۳) سهل باشد گر کنند افتادگان افتادگی مهربانی و تواضع از بزرگان خوش نماست
(۴) نشکنی تا خویش را از دوست کی یابی نشان؟ هست پیچیدن کلید قفل این گنجینه را

۱۱- کدام بیت فاقد مفهوم بیت زیر است؟

- «مستمع صاحب سخن را بر سر کار آورد غنچه خاموش بلبل را به گفتار آورد»
(۱) عطار در دل و جان اسرار دارد از تو چون مستمع نیابد پس چون کند روایت؟
(۲) تنی چند بر گفت او مجتمع چو عالم نباشی کم از مستمع

- (۳) سخن از مستمعان قدر پذیرد هیئات
(۴) سماع ای برادر نگویم که چیست
عالم نباشی کم از مستمع
مگر مستمع را بدانم که کیست

۱۲- در کدام عبارت کژتابی وجود دارد؟ (iranarze)

- (۱) ادبیات داستانی، همه آثار روایی را در بر میگیرند.
(۲) با خواندن هر متن داستانی باید، به درون محتوای آن بیاندهشیم.
(۳) پسرک تصویری از چهره پدرش کشید.
(۴) فرزندان نیک بخت، اندرز خیرخواهان را می پذیرند.

۱۳- در کدام گزینه شیوه نگارش تمامی کلمات درست است؟

- (۱) علاقه مند - یکشنبه - بهوش (هوشیار)
(۲) جناب عالی - سنگ لاخ - پیشامد
(۳) میلی متر - همنام - بیسواد
(۴) آستان قدس - جان دار - ذی ربط

۱۴- کدام یک از کلمات زیر به درستی جمع بسته شده اند؟


- (۱) مجروحین
(۲) سبزیجات
(۳) معلمان
(۴) گزارشات

۱۵- در کدام گزینه نشانه های نگارشی به درستی به کار نرفته است؟


- (۱) از شعرای دیگر این عصر ادیب نیشابوری (۱۳۸۱ - ۱۳۴۴ ه.ق) است.
(۲) یاد مرحوم مهندس نادری - که محبوبترین چهره تاریخ آن شرکت است - به خیر.
(۳) مدیر امور سرمایه های انسانی می گوید: «گذراندن دوره های آموزشی برای همه کارکنان ضروری است.»
(۴) سازمان، نیازمند مدیریتی قوی و شایسته است؛ نگذاریم گرفتار دیوان سالاری اداری شود.

هوش و استعداد تحصیلی


۱۶- کدام شکل به جای علامت سوال قرار بگیرد تا سری شکلی کامل گردد؟




(۲)



(۱)



(۴)



(۳)

۱۷- با توجه به اینکه آرزو مادر بهار، کاوه پسر آرزو، دانیال برادر الناز و الناز دختر بهار است، مادر بزرگ دانیال کیست؟

(۱) آرزو (۲) بهار (۳) خواهر کاوه (۴) خواهر بهار

۱۸- در کدام گزینه ارتباط میان جفت کلمات داده شده با سایر گزینه ها متفاوت است؟

(۱) اتم و الکترون (۲) کشک و شیر (۳) خانه و اتاق (۴) قطار و واگن

۱۹- اگر در یک زبان برنامه نویسی کلمه "مردان" معادل عدد ۵۱۶۴۳ باشد و "هنرور" معادل با عدد ۲۳۱۷۱ باشد. عدد ۱۴۲۳۵۴ معادل با کدام کلمه است؟

(۱) هنرمند (۲) رهنورد (۳) راهنما (۴) همراهان

** یک مؤسسه خیریه باید تیمی از داوطلبان را برای تحقیق به مناطق کم برخوردار ارسال کند. او شش داوطلب در اختیار دارد: مالک، زهرا، جواد، کاوه، سایه و بهار. او میخواهد حداقل دو داوطلب را به شهر بفرستد و در عین حال همواره حداقل دو داوطلب را در دفتر خیریه نگه دارد. این شرایط باید در انتخاب تیم داوطلبان رعایت شود:

الف) اگر مالک برای تحقیق برود، زهرا در دفتر خیریه میماند.

ب) اگر زهرا برای تحقیق برود، جواد نیز میرود.

راهنمایی: اطلاعات زیر را بخوانید و با توجه به آن پاسخ سوال های ۲۰ تا ۲۵ را در پاسخنامه علامت بزنید.

ج) اگر زهرا در دفتر خیریه بماند، سایه نیز در آنجا میماند.

د) جواد و کاوه نمیتوانند هر دو بروند یا هر دو بمانند.

۲۰- کدام یک از موارد زیر میتواند فهرستی از همه داوطلبانی باشد که برای تحقیق ارسال شده اند؟

(۱) سایه، بهار، زهرا (۲) زهرا، کاوه، بهار (۳) زهرا، جواد، بهار (۴) مالک، سایه

۲۱- کدام یک از جفت داوطلبان زیر میتوانند با یا بدون همراهی داوطلبان دیگر با هم برای تحقیق بروند؟

(۱) زهرا و کاوه (۲) مالک و سایه (۳) کاوه و جواد (۴) زهرا و بهار

۲۲- اگر زهرا برای تحقیق برود، کدام یک از موارد زیر میتواند فهرست کامل داوطلبانی باشد که در دفتر میمانند؟

(۱) جواد، مالک و سایه (۲) کاوه و مالک (۳) بهار و جواد (۴) بهار، جواد، مالک و سایه

۲۳- کدام یک از موارد زیر نمیتواند فهرست کامل داوطلبانی باشد که در دفتر میمانند؟

(۱) کاوه، سایه و زهرا (۲) بهار، کاوه، سایه و زهرا

(۳) بهار، کاوه و زهرا (۴) بهار، کاوه، مالک و سایه

۲۴- اگر دقیقاً دو داوطلب در دفتر بمانند، کدام یک از موارد زیر میتواند درست باشد؟

(۱) کاوه برای تحقیق میرود. (۲) مالک در دفتر میماند.

(۳) زهرا در دفتر میماند. (۴) بهار در دفتر میماند.

۲۵- اگر سایه و مالک یک وظیفه را داشته باشند، کدام یک از گزینه های زیر انتخاب معتبری از بزرگترین تیم ممکن برای

تحقیق میباشد؟

(۱) بهار، مالک و سایه (۲) بهار، جواد و زهرا

(۳) بهار، جواد، کاوه و زهرا (۴) مالک، سایه، زهرا و کاوه

راهنمایی: برای پاسخگویی به سوالات ۲۶ و ۲۷ لازم است موقعیتی را که در هر سوال مطرح شده، مورد تجزیه و تحلیل قرار دهید و سپس گزینه ای را که فکر میکنید پاسخ مناسب تر و کاملتری برای آن سوال است را انتخاب کنید.

۲۶- شورای شهر ادعا میکند که اجرای طرح ترافیک مرکز شهر، ترافیک را کاهش داده و کیفیت هوا را بهبود بخشیده است.

آنها استدلال میکنند که از آنجایی که در ساعات اوج ترافیک، وسایل نقلیه کمتری وارد این منطقه میشوند، این سیاست با موفقیت آلودگی هوا و زمان سفر را کاهش داده است.

کدام یک از موارد زیر، فرض مورد نیاز برای استدلال شورای شهر است؟

(۱) رانندگانی که در ساعات اوج ترافیک از مرکز شهر اجتناب میکنند، از مسیر های جایگزین که ترافیک کمتری دارند، استفاده خواهند کرد.

(۲) کاهش تعداد وسایل نقلیه ورودی به مرکز شهر، در درجه اول به دلیل طرح ترافیک است، نه عوامل دیگر.

(۳) گزینه های حمل و نقل عمومی در منطقه مرکز شهر در مدت مشابه کاهش یافته

(۴) خودرو های وارد شده به مرکز شهر در ساعات اوج، به طور متوسط آلایندهی کمتری نسبت به گذشته تولید میکنند.

۲۷- عملیات حفاری نفت در دریا با ریسک غیر قابل اجتناب نشت نفت همراه است، اما واردات نفت با استفاده از نفتکش

ها در حال حاضر ریسک نسبی بیشتری به ازای هر بشکه نفت دارد. بنابراین، اگر بخواهیم ریسک نشت نفت را کاهش دهیم

بدون اینکه نفت خود را کاهش دهیم، باید بیشتر در عملیات حفاری دریایی سرمایه گذاری کنیم و کمتر نفت را با نفتکش ها

وارد کنیم.

کدام یک از موارد زیر اگر درست باشد، استدلال بالا را به شدت تضعیف میکند؟

(۱) واردات نفت با نفتکش ها در حال حاضر نسبت به حفاری نفت در دریا ارزانتر است.

(۲) نفتکش ها به راحتی قابل باز طراحی هستند تا ریسک نشت نفت را کاهش دهند.

(۳) تاثیر عملیات حفاری دریایی بروی محیط زیست میتواند با مدیریت دقیق کاهش یابد

(۴) نشت نفت هایی که توسط نفتکش ها ایجاد شده است، معمولاً جدی تر از عملیات دریا بوده است.

۲۸- کدام گزینه میتواند به جای علامت سوال در شکل زیر قرار بگیرد؟



۱ (۱)

۲ (۲)

۵ (۳)

۷ (۴)

۲۹- در یک مزرعه که شامل تعداد گوسفند و مرغ است، تعداد پاهای حیوانات، ۱۴ تا بیش از دو برابر تعداد سرها است. چه تعداد گوسفند در این مزرعه وجود دارد؟

۹ (۴)

۷ (۳)

۵ (۲)

۲ (۱)

۳۰- یک خیاط میخواهد تکه پارچه هایی از رول های پارچه را برای پیراهن تهیه کند. او هر رول با طول مساوی را به ۱۰ تکه برش میدهد و سرعت برش او ۴۵ برش در دقیقه است. در ۲۴ دقیقه چند رول بریده میشود؟

۳۲ (۴)

۵۴ (۳)

۱۰۸ (۲)

۱۲۰ (۱)

۳۱- یک چاپگر صفحات یک کتاب را با شروع از ۱ شماره گذاری میکند و در مجموع از ۱۹۲ رقم استفاده میکند. این کتاب چند صفحه دارد؟

۱۲۰ (۴)

۱۰۰ (۳)

۹۲ (۲)

۸۴ (۱)

۳۲- مردی جوراب هایی به دو رنگ مشکی و قهوه ای میپوشد. او در مجموع ۲۰ جوراب مشکی و ۲۰ جوراب قهوه ای در کشو خود دارد. فرض کنید مجبور باشد جوراب ها را در تاریکی بیرون بیاورد، برای اینکه مطمئن شود یک جفت جوراب همرنگ دارد، باید چند جوراب بیرون بیاورد؟

۲۰ (۴)

۱۱ (۳)

۳ (۲)

۲ (۱)

۳۳- سورنا با سرعت ۳۰ کیلومتر بر ساعت دوچرخه سواری میکند و در عرض ۶ ساعت به مقصد نهایی میرسد. مهران همین مسافت را در ۴ ساعت طی میکند. اگر سورنا سرعت متوسط خود را ۱۰ کیلومتر بر ساعت و مهران سرعت متوسط خود را ۵ کیلومتر بر ساعت افزایش دهد، تفاوت زمان رسیدن آنها به مقصد چقدر خواهد بود؟

۶۰ دقیقه (۴)

۵۴ دقیقه (۳)

۴۲ دقیقه (۲)

۴۰ دقیقه (۱)

۳۴- یک کاسه نیمکره ای با شعاع داخلی ۱۲ سانتی متر حاوی مایع است. این مایع باید در ظرف استوانه ای به قطر ۴ سانتی متر و ارتفاع ۳ سانتی متر ریخته شود. تعداد ظروف لازم برای خالی کردن کاسه برابر است با

۱۰۶ (۴)

۹۶ (۳)

۸۶ (۲)

۸۰ (۱)

۳۵- فردی هشت میلیون و ۱۰۰ هزار تومان برای خرید چند میز به قیمت هر کدام ۱ میلیون و ۲۰۰ هزار تومان و چند صندلی به قیمت هر کدام ۳۰۰ هزار تومان هزینه میکند. نسبت تعداد صندلی های به تعداد میز ها در حالتی که حداکثر تعداد ممکن میز خریداری شده باشد، برابر است با

(۱) ۱ به ۱

(۲) ۱ به ۲

(۳) ۲ به ۱

(۴) ۵ به ۷

◀ کامپیوتر

۳۶- در Word برای ایجاد شماره گذاری خودکار در تیترها به صورتی که مثلاً ۱-۱، ۱-۲ و ... نمایش داده شود، باید از کدام بخش

استفاده کرد؟

Multilevel List (۲)

Bullets and Numbering (۱)

Caption (۴)

Outline View (۳)

۳۷- قابلیت Mail Merge در Word بیشتر برای چه کاری استفاده میشود؟

(۱) ایجاد نمودار در سند

(۲) درج پاورقی برای منابع

(۳) ارسال نامه یا گواهی به افراد مختلف با یک قالب ثابت

(۴) تبدیل سند به فایل PDF

۳۸- در Word اگر بخواهیم یک بخش از سند چندستونی باشد ولی کل سند چندستونی نشود باید از کدام گزینه استفاده

کنیم؟

Line Break (۴)

Column Break (۳)

Section Break (۲)

Page Break (۱)

۳۹- در نرم افزار Word ابزار Spelling & Grammar در کدام سربرگ قرار دارد؟

Home (۴)

Insert (۳)

Review (۲)

Layout (۱)

۴۰- در Word برای اینکه یک متن یا پاراگراف به طور کامل در یک صفحه باقی بماند و به صفحه بعد نصفه منتقل نشود باید

از کدام گزینه استفاده کنیم؟ ایران عرضه

Home-Paragraph-keep Lines Together (۲)

insert- Page Break (۱)

Refrences-Cross references (۴)

layout-Columns (۳)

۴۱- در Excel برای درج خودکار سری داده ها از کدام گزینه استفاده میشود؟

Auto Fill (۲)

Auto Complete (۱)

Auto List (۴)

Pick From Drop Down List (۳)

۴۲- در Excel برای اینکه در یک خانه اعداد به صورت درصد نمایش داده شود آن را از چه نوعی تعریف می کنیم؟

Scientific (۴)

Currency (۳)

Fraction (۲)

Percentage (۱)

۴۳- نتیجه حاصل از فرمول روبرو در اکسل کدام گزینه است؟

$$D = 2^3 * 2 + 4/2$$

- (۱) ۱۴۴ (۲) ۶۶ (۳) ۱۰ (۴) ۱۸

۴۴- در Excel از تابع TRANSPOSE برای چه منظوری استفاده میشود؟

(۱) جمع و میانگین اعداد (۲) جابجایی داده ها بین ردیف و ستون

(۳) ترکیب محتویات چند سلول در یک سلول (۴) مرتب سازی داده ها به ترتیب صعودی یا نزولی

۴۵- برای قفل کردن ردیف ها یا ستون ها به طوری که هنگام اسکرول کردن همیشه دیده شوند، از چه گزینه ای استفاده

می کنیم؟

(۱) view-Freeze Panes (۲) Date-Sort

(۳) Review-Protect Sheet (۴) Insert-Table

۴۶- اگر در یک فرمول اکسل به آدرس سلول اشتباه با ناموجودی ارجاع داده شود کدام شما ظاهر میشود؟

- (۱) !DIV/0# (۲) !VALUE# (۳) !REF# (۴) ?NAME#

۴۷- اگر در یک فرمول اکسل از آدرس A\$1\$ استفاده کنیم و آن را کپی کنیم، نتیجه چه خواهد شد؟

(۱) آدرس سلول به صورت نسبی تغییر میکند.

(۲) همیشه به همان سلول A1 اشاره میکند.

(۳) به آخرین سلول موجود در ستون A تغییر می کند.

(۴) خطای !REF# برمیگرداند.

۴۸- در Excel تفاوت بین فرمت Number و Accounting چیست؟

(۱) Number فقط متن را قالب بندی میکند ولی Accounting مخصوص تاریخ است.

(۲) Number برای اعداد معمولی و Accounting برای نمایش مقادیر پولی با تراز بندی مناسب استفاده می شود.

(۳) Number به طور پیش فرض اعشار ندارد ولی Accounting دارد.

(۴) هیچ تفاوتی ندارند

۴۹- در اکسل چه مقداری را باید به نوع Currency نسبت داد؟

- (۱) متنی (۲) عددی (۳) تاریخ و ساعت (۴) پولی

۵۰- برای بارگذاری مجدد صفحه (Refresh) و توقف بارگذاری (Stop) کدام کلیدها درست است؟

(۱) F5 → Refresh, Esc → Stop (۲) Ctrl + R → Stop, F5 → Refresh

(۳) F12 → Refresh, Esc → Stop (۴) F5 → Stop, Ctrl + S → Refresh

۵۱- برای رفتن به صفحه بعدی در Internet Explorer از کدام ترکیب کلید استفاده میشود؟

Alt+Right Arrow (۲)

Alt+Left Arrow (۱)

Ctrl+Right Arrow (۴)

Ctrl+Left Arrow (۳)

۵۲- نوار وضعیت (Status Bar) در پایین internet Explorer چه چیزی را نمایش می‌دهد؟ (۱ ایران عرضه)

(۲) وضعیت بارگذاری صفحه و لینک مقصد

(۱) آدرس صفحه فعلی

(۴) تنظیمات امنیتی

(۳) لیست Favorites

۵۳- اگر بخواهید عبارت مورد جستجو دقیقاً همانند خواسته ی شما باشد باید آن را در کدام علامت قرار دهید؟

(۴) کاما

(۳) ویرگول

(۲) پرانتز

(۱) کوتیشن

۵۴- در کدام حالت ماشین حساب ویندوز میتواند محاسبات ریاضی پیشرفته مانند جذر، توان لگاریتم توابع نمایی را انجام

داد؟

Statistics (۴)

Programmer (۳)

Scientific (۲)

Standard (۱)

۵۵- برای حذف یک برنامه به صورت کامل از ویندوز، از کدام بخش باید اقدام کرد؟

Control Panel → Programs and Features (۲)

File Explorer (۱)

Run → temp (۴)

Task Manager → Startup (۳)

آشنایی با مفاهیم پولی و بانکی و بانکداری الکترونیک

۵۶- بانک ها به منظور ایجاد تسهیلات لازم برای گسترش امور تولیدی و بازرگانی و خدماتی در قالب چه عقدی می توانند

اعطای اعتبار نمایند؟

(۴) تسهیلات اعتباری

(۳) مشارکت مدنی

(۲) جعاله

(۱) مساقات

۵۷- حداقل مبلغ التزام جهت افتتاح سرمایه گذاری مدت دار نزد بانک رفاه کارگران چند ریال می باشد؟

(۴) ۱۰۰/۰۰۰/۰۰۰

(۳) ۱۰/۰۰۰/۰۰۰

(۲) ۱/۰۰۰/۰۰۰

(۱) ۵۰۰/۰۰۰

۵۸- به شماره ملی حساب های بانکی می گویند

(۴) شبا

(۳) پایا

(۲) شاپرک

(۱) تابا

۵۹- بانک ها مکلفند برای ارائه دسته چک به مشتریان خود صرفاً از طریق سامانه اقدام نمایند.

(۴) چکاد

(۳) چکاوک

(۲) پایا

(۱) صیاد

۶۰- چک فقط وسیله است و نباید از آن به عنوان وسیله استفاده کرد.

(۱) پرداخت - اعتبار (۲) دریافت - پرداخت (۳) دریافت - اعتبار (۴) اعتبار - پرداخت

۶۱- اختصاص هر گونه ابزار پرداخت به حساب های سپرده اشخاص ممنوع است.

(۲) بیشتر از ۱۳ سال تمام

(۱) کمتر از ۱۳ سال تمام

(۴) بیشتر از ۷ سال تمام

(۳) کمتر از ۷ سال تمام

۶۲- مسئولیت هرگونه سوءاستفاده از کارت هدیه صادره با چه کسی است؟

- (۱) مشتری (دارنده کارت) (۲) کارمند صادر کننده
(۳) موسسه اعتباری (۴) بانک مرکزی

۶۳- بر اساس دستورالعمل شفاف سازی تراکنش های بانکی، مؤسسه اعتباری جهت انتقال روزانه الکترونیکی وجوه بیش از

سقف تعیین شده برای «مشتری حقیقی» و «مشتری حقوقی» کدام تشابه و تفاوت را باید رعایت کند؟

- (۱) برای هیچ کدام الزامی نیست.
(۲) فقط مشتری حقیقی نیازمند اسناد مثبته است.
(۳) تنها برای مشتری حقوقی تکمیل فیلد "بابت" الزامی است.
(۴) هر دو نیازمند تکمیل فیلد "بابت" و ارائه اسناد مثبته هستند - سقف مشتری حقیقی ۴ میلیارد و حقوقی ۱۰ میلیارد ریال است.

۶۴- جهت صدور دسته چک مجدد چند درصد از برگه های دسته چک قبلی می بایست به بانک تودیع شده باشند؟

- (۱) ۵۰ درصد (۲) ۷۰ درصد (۳) ۸۰ درصد (۴) ۹۰ درصد

۶۵- بر اساس ماده ۱۴ قانون چک، شخص دارنده چک تا چه مدتی میتواند حساب خود را به علت سرقت با مفقودی نزد بانک

توقیف نماید و پس از آن باید گواهی تقدیم شکایت نزد مقام قضایی را برای بانک بیاورد؟ (متعلق به سایت ایران عرضه)

- (۱) یک هفته (۲) ده روز (۳) دو هفته (۴) یک ماه

۶۶- تسویه و پردازش تراکنش های بین بانکی بوسیله کدام یک از سامانه های زیر انجام می پذیرد؟

- (۱) صیاد (۲) سحاب (۳) چکاوک (۴) ساتنا

۶۷- پلتفرم آنلاین طرح های اعتباری/اقساطی بانک رفاه کارگران به مشتریان، چه نام دارد؟

- (۱) بتا (۲) پیوند (۳) همبانک رفاه (۴) شهاب

۶۸- کدام طرح سپرده بانک رفاه کارگران، با محوریت دریافت وجه از مشتری به صورت دوره ای در بازه زمانی مشخص و

پرداخت سرمایه اندوخته شده و یا سود مستمر مادام العمر، در راستای ارائه خدمات روزآمد و تکمیل سبد خدمات ارائه گردیده

است؟

- (۱) مدت دار ویژه (۲) فرا رفاه (۳) رفاه فردا (۴) معین

۶۹- مطالباتی که از شش ماه تا هجده ماه از سررسید آنان سپری شده باشد را مطالبات گویند.

- (۱) جاری (۲) سررسید گذشته (۳) معوق (۴) مشکوک الوصول

۷۰- در صورتی که دارنده چک تا ماه از تاریخ صدور چک برای وصول آن به بانک مراجعه نکند یا ظرف ماه از تاریخ

صدور گواهی عدم پرداخت شکایت ننماید، دیگر حق شکایت کیفری نخواهد داشت.

- (۱) شش ماه - شش ماه (۲) سه ماه - شش ماه

۷۱- کدام مفهوم در بانکداری به "حق برداشت فوری وجه از حساب بانکی" اشاره دارد؟ (تهیه شده توسط ایران عرضه)

(۱) سپرده مدت دار (۲) سفته (۳) اعتبار اسنادی (۴) سپرده جاری (دیداری)

۷۲- کدامیک از سرمایه گذاری های زیر کمترین ریسک را دارا می باشد؟

(۱) اوراق قرضه دولتی (۲) صندوق های سرمایه گذاری مشترک

(۳) اوراق قرضه شرکتی (۴) اوراق سهام پذیرفته شده در بورس

۷۳- چاپ و نشر اسکناس چه نوع سیاستی است؟

(۱) پولی انبساطی (۲) مالی انبساطی (۳) مالی انقباضی (۴) پولی انقباضی

۷۴- کدام یک از ابزارهای زیر، برای تضمین پرداخت تعهدات در قراردادهای بانکی یا تجاری، توسط بانک صادر می شود؟

(۱) سفته (۲) چک (۳) ضمانت نامه بانکی (۴) تمبر مالیاتی

۷۵- منظور از قیمت اسمی چیست؟

(۱) قیمت بازار (۲) قیمت ذاتی

(۳) قیمت مورد معامله (۴) قیمت ثبت شده در برگه سهام

۷۶- مالی که از محلی به محل دیگر قابل نقل و انتقال نباشد، اعم از اینکه استقرار آن ذاتی باشد یا به واسطه عمل انسان،

به نحوی که انتقال آن مستلزم خرابی یا نقص خود آن محل شود، چه نام دارد؟

(۱) اموال منقول (۲) اموال غیرمنقول

(۳) اموال بنا و مستحقات (۴) اموال منصوب و ابنیه

۷۷- تورم عبارت است از افزایش

(۱) قیمت ها (۲) سطح قیمت ها در یک سال

(۳) مستمر سطح عمومی قیمت ها (۴) مستمر سطح قیمت های مصرفی

۷۸- کدام مفهوم به تعداد دفعات استفاده از یک واحد پولی در مدت زمان مشخص اشاره دارد؟

(۱) نقدینگی (۲) پایه پولی (۳) حجم پول (۴) سرعت گردش پول

۷۹- کاهش نرخ بهره بانک ها و سود سپرده های کوتاه مدت و بلندمدت مردم در بانک ها در شرایط طبیعی اقتصاد چه تأثیری

بر شاخص سهام می گذارد؟

(۱) باعث افزایش شاخص سهام می شود. (۲) باعث کاهش شاخص سهام می شود.

(۳) بر روی شاخص سهام تأثیری ندارد. (۴) هیچ کدام

۸۰- وظیفه اصلی "بانک مرکزی جمهوری اسلامی ایران" چیست؟

(۱) اعطای تسهیلات به عموم مردم (۲) نظارت بر شبکه بانکی و اجرای سیاست های پولی

◀ زبان انگلیسی

81- Will you that John when you see him, please?

- 1) giving 2) be going to give
3) give 4) to give

82- That comedy was all the other movies I've ever watched. (source: iran arze website)

- 1) the funniest 2) funnier 3) as funny 4) funnier than

83- She tried to stop the children jumping the river.

- 1) on/into 2) about/in 3) from/on 4) from/into

84- The food was but the service was

- 1) wonderful/terrible 2) wonderfully/terribly
3) wonderful/terribly 4) wonderfully/terrible

85- Nader is a clever boy. He no attention to what his classmates are telling about him.

- 1) pays 2) gets 3) reports 4) follows

86- The new university was built to be the top choice for international students to study in the city.

- 1) installing 2) attending 3) graduating 4) hoping

87- They have enough power to themselves from those who would hurt them.

- 1) interview 2) defend 3) recharge 4) contract

88- She looked at small box at the back of the shop she really liked it.

- 1) frequent 2) backed 3) wooden 4) false

89- My brother is studying photography in Tehran University. He always a camera with him wherever he goes.

- 1) needs 2) donates 3) carries 4) describes

90- I didn't really get what you just said because she was a lot of noise.

- 1) making 2) getting 3) hearing 4) doing

91-Your tests came back from the medical about an hour ago, and the results were negative.

- 1) palace 2) embassy 3) shrine 4) laboratory

92- A: How can I find information about tourist cities? {iranarze.ir}

B: Please, check our guide.....

- 1) fact 2) site 3) booklet 4) range

93- On average, 250 pilgrims visit the holy every weekend from Easter to September.

- 1) hospital 2) embassy 3) shrine 4) library

94- Hamedan attracts a lot of.....tourists from other cities of Iran.

- 1) international 2) domestic 3) ancient 4) familiar

95- Please don't.....that you must turn off the light when you leave.

- 1) recite 2) forget 3) enjoy 4) prefer

Close Test:

Banks play a crucial role in the economy by providing financial services to individuals and businesses. One of their main functions is to accept deposits from customers, which can then be used to...(96)... loans to borrowers. Customers earn...(97)... on their deposits, which encourages saving. Central banks, unlike commercial banks, are responsible for regulating the money supply and controlling inflation, and they implement monetary...(98)... to maintain economic stability. Modern banking also offers electronic services, allowing customers to perform transactions online or via mobile apps, which...(99)... the efficiency of financial operations. Finally, effective risk management is essential, as banks must evaluate borrowers' creditworthiness to...(100)... the possibility of loan defaults.

96-

- 1) collect 2) grant 3) refuse 4) deposit

97-

- 1) fees 2) penalties 3) fines 4) interest

98-

- 1) policies 2) deposits 3) withdrawals 4) transfers

99-

- 1) increases 2) decreases 3) ignores 4) eliminates

100-

- 1) increase 2) ignore 3) minimize 4) celebrate